

Prénom : _____

(A)

Date: _____

Nombres et quantités : de 0 à 999



1 Complète avec $<$, $>$ ou $=$:

252 $<$ trois - cent - deux

477 $<$ cinq - cent - dix

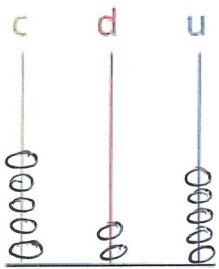
28 $<$ cent - huit

803 $=$ huit - cent - trois

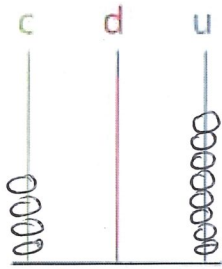
536 $>$ cinq - cent

465 $>$ cent - soixante

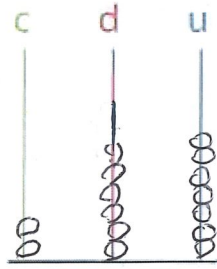
2 Complète les abaques :



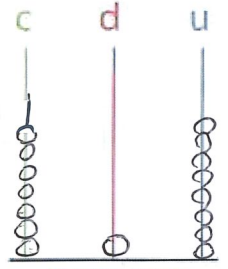
525



408



267




718

3 Complète le tableau :

827	$800 + 20 + 7$	$8c + 2d + 7u$
565	$500 + 60 + 5$	$5c + 6d + 5u$
959	$900 + 50 + 9$	$9c + 5d + 9u$
282	$200 + 80 + 2$	$2c + 8d + 2u$
709	$700 + 9$	$7c + 9u$

4 Complète :



Objectif : Je sais lire les heures justes, les demi-heures et les quarts d'heure.

1. Écris les heures indiquées sur ces horloges.



Il est 7 h 30 min.



Il est 5 h 30 min.



Il est 3 h 15 min.



Il est 2 h 00 min.



Il est 9 h 00 min.



Il est 10 h 15 min
10 h et quart



Il est 4 h 30 min
4 h et demie



Il est 12 h 15 min
12 h et quart

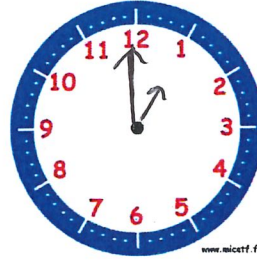
2. Place les aiguilles selon les heures indiquées.



Il est 10 h 00 min.



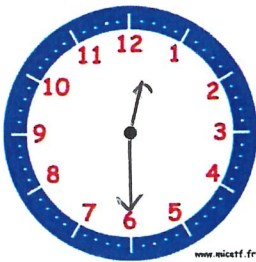
Il est 3 h 30 min.



Il est 1 h 00 min.



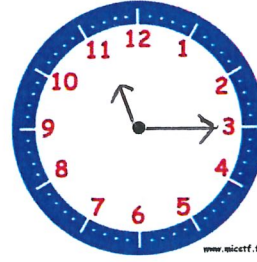
Il est 4 h 15 min.



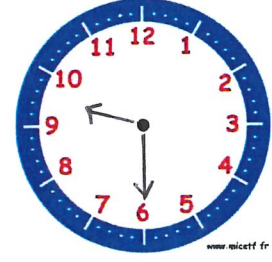
Il est 12 h et demie.



Il est 6 h et quart.



Il est 11 h et quart.



Il est 9 h 30 min.



Je comprends dans quel ordre se passent les choses

Observe chaque dessin et lis les phrases.
Puis numérote-les dans l'ordre, de 1 à 5.

date :

1

5 Il se relève en se frottant les fesses.



4

1 Il a gelé la nuit dernière.

2 Max met son bonnet et ses gants.

3 Il commence à s'avancer.

4 Elle se sèche et se rhabille.

1 Lisa arrive à la piscine.

3



5 Elle retourne chez elle.

2 Elle met son maillot de bain.


date :

2

1 Pour Noël, Paula a reçu des skis et des bâtons.

2 Aujourd'hui, elle est allée à la montagne.

5 Après avoir skié, elle a bu un bon chocolat chaud.



4

3 Elle a pris le télésiège.

2 Il ouvre son cadeau.

4 Les piles sont usées.

1 Noah prend son cadeau sous le sapin.

5 Enfin, il va se coucher.

3

