
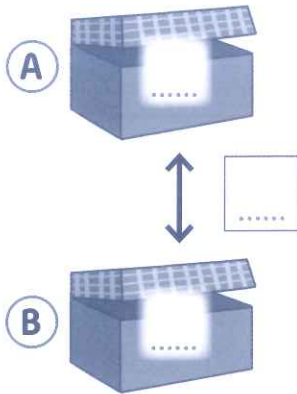


Exercice 1

1 (séance 1) Trouve l'écart entre les deux quantités et complète les phrases.

La boîte **A** contient 35 carrés et la boîte **B** contient 42 carrés.



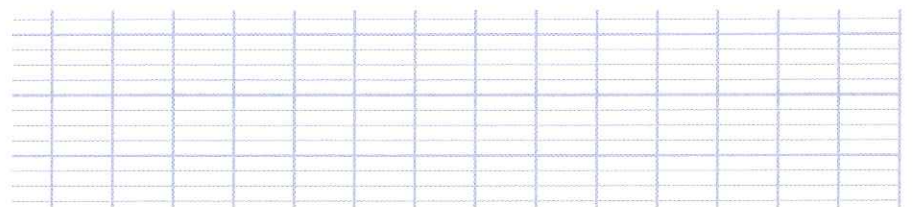
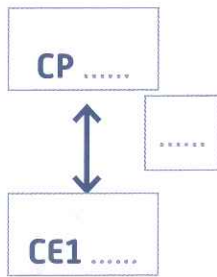
L'écart entre les nombres de carrés des deux boîtes est de carrés.
 La boîte **A** contient carrés de que la boîte **B**.
 La boîte **B** contient carrés de que la boîte **A**.

28 Résolution de problèmes numériques (6)

Exercice 2

2 (séance 3) Trouve le nombre d'élèves en CE1.

Dans l'école du Centre, il y a deux classes de CP et deux classes de CE1. Il y a 43 élèves en CP. Il y a 12 élèves de moins en CP qu'en CE1. Combien y a-t-il d'élèves en CE1 ?




Il y a élèves en CE1.

28 Résolution de problèmes numériques (6)

Exercice 3

3 (séance 4) Trouve l'écart entre les nombres de figurines de Lila et Tom et complète la phrase.

Lila a 57 figurines et Tom a 48 figurines.



Lila a figurines de que Tom.

28 Résolution de problèmes numériques (6)

Exercices supplémentaires