

Mesurer en centimètres (1)

CALCUL MENTAL

Associer, à une somme égale à 10, les soustractions correspondantes. Ex : $8 + 2 = 10 / 10 - 2 = 8 / 10 - 8 = 2$

Recopier la somme et écrire les deux soustractions.

$+$ =

$-$ =

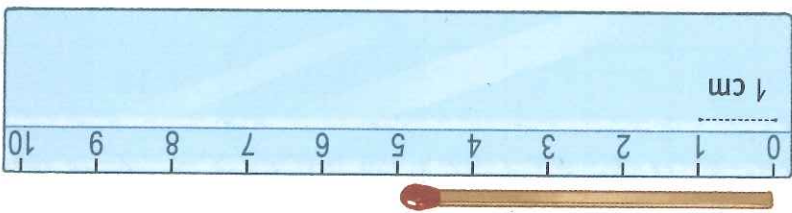
$-$ =

- Objectifs :
- introduire le centimètre (cm) ;
 - mesurer avec la règle graduée.

1

• Explique comment mesurer avec une règle graduée.

Cette règle est graduée en centimètres.



L'allumette mesure 5 cm.

• Utilise ta règle graduée pour mesurer la longueur des objets. Écris la mesure.




allumette : cm

pince à linge : cm

gomme : cm

bracelet : cm

crayon : cm



2

Mesure les segments avec ta règle graduée en cm. Complète.

Le segment bleu mesure cm.

Le segment rouge mesure

