



# Reconnaître et nommer le cube et le pavé droit (1)

## ACTIVITÉ DE DÉCOUVERTE

L'activité collective préalable au travail sur fichier, Trier des solides, est décrite dans le Guide pédagogique.

### Découvrons ensemble

Réinvestissement de l'activité de découverte

1 Voici les objets que le groupe de Sami doit trier.




1



2



3



4




5



6



7



• Complète avec le numéro des solides.

Cube :

Pavé droit :

Pistes de différenciation dans le Guide pédagogique

### Retenons ensemble

Comment reconnaître le cube et le pavé droit ?

Un dé a la forme d'un **cube**.

Un livre a la forme d'un **pavé droit**.

Ces formes géométriques s'appellent des **solides**.

• Complète le dessin avec les mots à retenir.



un \_\_\_\_\_






un \_\_\_\_\_

### Les mots à retenir

pavé droit  
cube

### Je sais faire

2 Relie chaque solide à son nom.



cube

pavé droit

### Je m'entraîne

3 Coche la bonne réponse.

Un dé est un pavé droit.

vrai

faux

Un livre a la forme d'un cube.

vrai

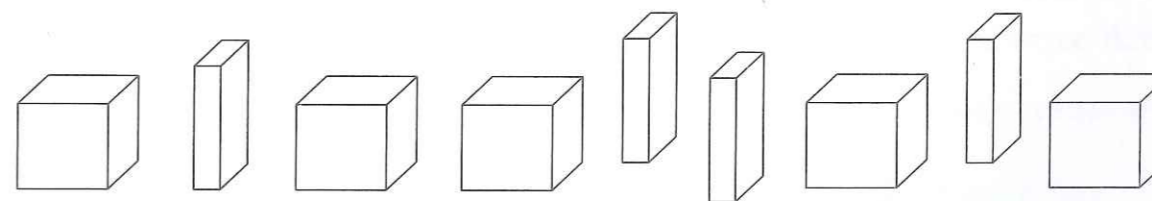
faux

Le pavé droit peut tenir verticalement comme un livre dans une bibliothèque.

vrai

faux

4 Colorie selon le code couleur : **cube** , **pavé droit**



5 Entoure en rouge **cube** , en bleu **pavé droit**

glace fraise café thé pavé droit chocolat sucre cube biscuits pistache