




1 Colorie selon le code couleur.



pyramide jaune

pavé droit rouge


cube marron

boule bleu

cône orange

cylindre vert

2 Écris le nom de chaque solide. Tu peux utiliser les noms de l'exercice 1.



C'est un pavé droit



C'est une boule ou sphère



C'est un cube



C'est une pyramide



C'est un cylindre



C'est un cône

3 Le défi de Robotine !

Colorie d'une même couleur le solide et sa description.

J'ai des faces carrées et des faces rectangulaires.

Toutes mes faces ont la même forme.

Je n'ai pas de face plane.

J'ai 2 faces rondes.

J'ai 1 seule face ronde.





1 Colorie les solides selon le code couleur.

faces carrées

jaune

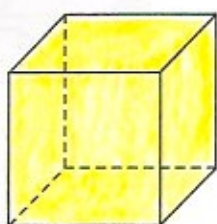
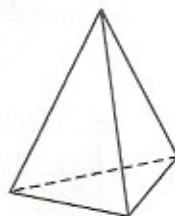

faces rectangulaires

bleu

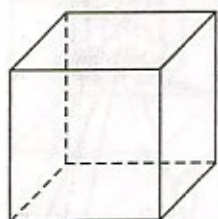
faces triangulaires

vert

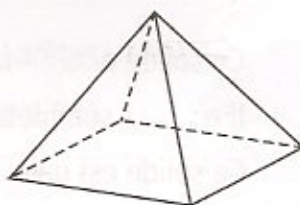
Les lignes en pointille t'aident à observer les arêtes et les faces cachées.



2 Voici des solides. Complète chaque description.



6 faces  
8 sommets  
12 arêtes



5 faces  
5 sommets  
8 arêtes

C'est un cube

C'est une pyramide

3 Le défi de Robotine !

- Repasse en vert 2 arêtes de chacun de ces solides.
- Colorie en jaune 2 faces de chacun de ces solides.
- Place un point orange sur 2 sommets de chacun de ces solides.

