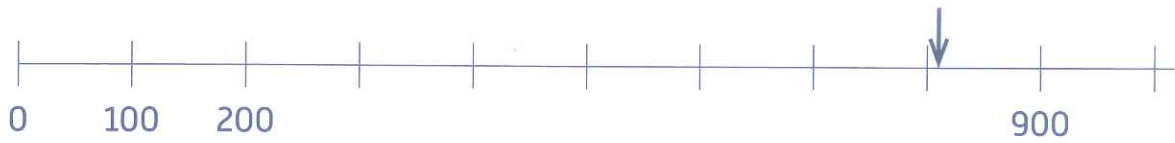


Exercice

1

(séance 2) Lila, Max, Tom et Éva ont joué à trouver le nombre.
À chaque partie, l'un des quatre a trouvé le bon nombre.

Entoure celui ou celle qui a trouvé le bon nombre.




Lila a dit 260.

Max a dit 710.

Tom a dit 810.

Éva a dit 990.



Lila a dit 450.

Max a dit 325.

Tom a dit 530.

Éva a dit 550.

29 Encadrement des nombres




Exercice


2

(séance 4) Place les nombres demandés. Puis **vérifie** avec la droite graduée distribuée.

Place 150.



Place 50.



29 Encadrement des nombres