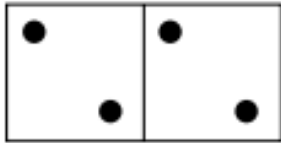


Prénom :

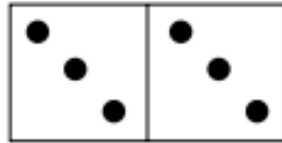
Date :

Les doubles


1. **Complète** les dominos pour obtenir tous les doubles. **Complète** les égalités.



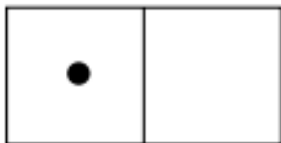
$$_ + _ = _$$



$$_ + _ = _$$



$$_ + _ = _$$



$$_ + _ = _$$



$$_ + _ = _$$



$$_ + _ = _$$

2. **Complète** les phrases suivantes :

4 est le double de _____. 6 est le double de _____.

10 est le double de _____. 14 est le double de _____.

3. **Complète** les additions suivantes avec des doubles :

$$3 + 3 = _$$

$$_ + _ = 12$$

$$7 + 7 = _$$

$$10 + 10 = _$$

$$_ + _ = 18$$

$$_ + _ = 16$$

4. **Résous** ces petits problèmes :

Marie a 8 €. Tom en a le double. Combien Tom a-t-il d'argent ?

Je cherche :

Je note la solution :

Tom a euros.

Léa a 2 paquets de 6 bonbons. Combien Léa a-t-elle de bonbons ?

Je cherche :

Je note la solution :

Léa a bonbons.