


Nom :

Date :

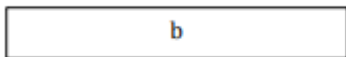
MESURE DE LONGUEURS

CP


1 Utilise la règle pour mesurer les bandes.



La bande a mesure cm.




La bande b mesure cm.



La bande c mesure cm.



La bande d mesure cm.



La bande e mesure cm.

2 Complète le tableau.

F cm
G cm
H cm
I cm
J cm

