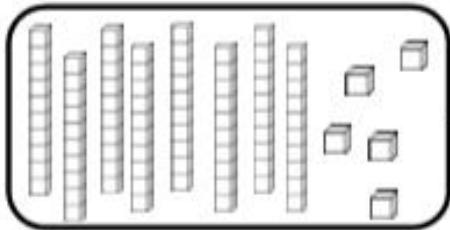
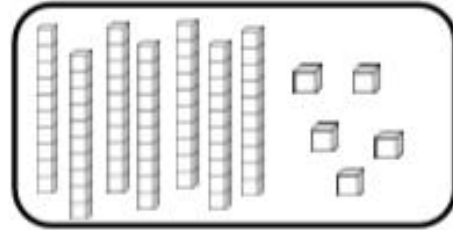


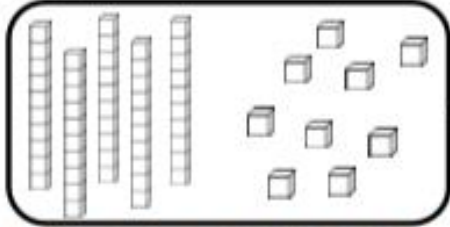
Nombres et quantités : de 0 à 90

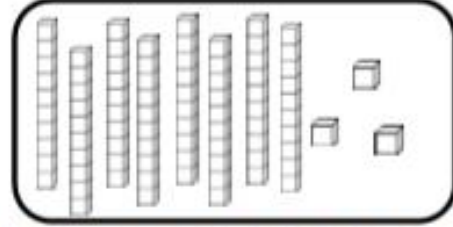


1 Complète avec le bon nombre :










2 Complète la bande numérique:

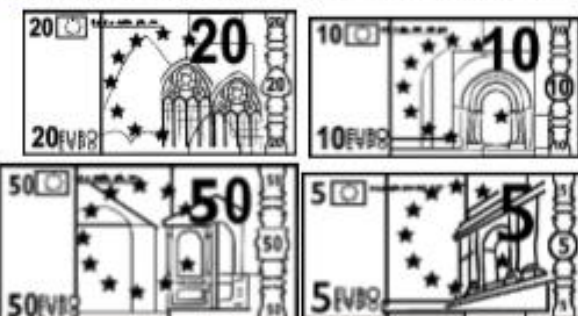


Nombres et quantités : de 0 à 90

1 Complète les cases grises du tableau des nombres

	41							
					56			
		62						
70				75				
								89

2 Colorie les pièces et billets correspondants à la somme dans la tirelire :



Nombres et quantités : de 0 à 90

3  15

1 Complète avec $<$, $>$ ou $=$:

82 37

82 62

66 86

60 70

80 85

85 19

2 Ecris les nombres dans l'ordre croissant, du plus grand au plus petit :

34 - 75 - 56 - 52 - 42 - 84



Nombres et quantités: de 0 à 90

1 Trouve le nombre qui vient avant et celui qui vient après



— 88 —

— 60 —

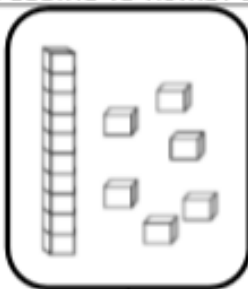
— 81 —

— 73 —

— 55 —

— 89 —

2 Dessine le nombre en barres



16

85

57

68