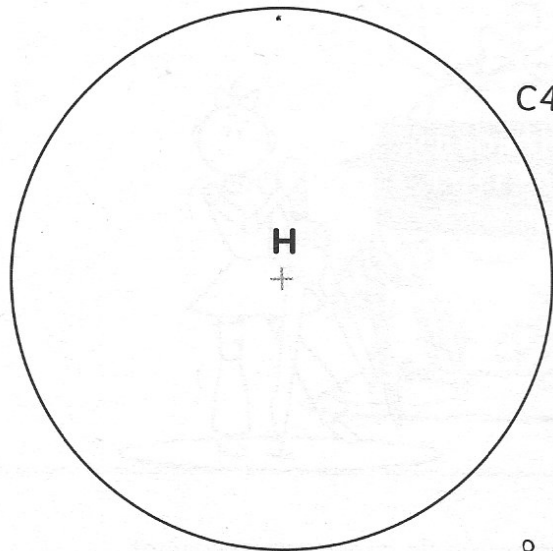
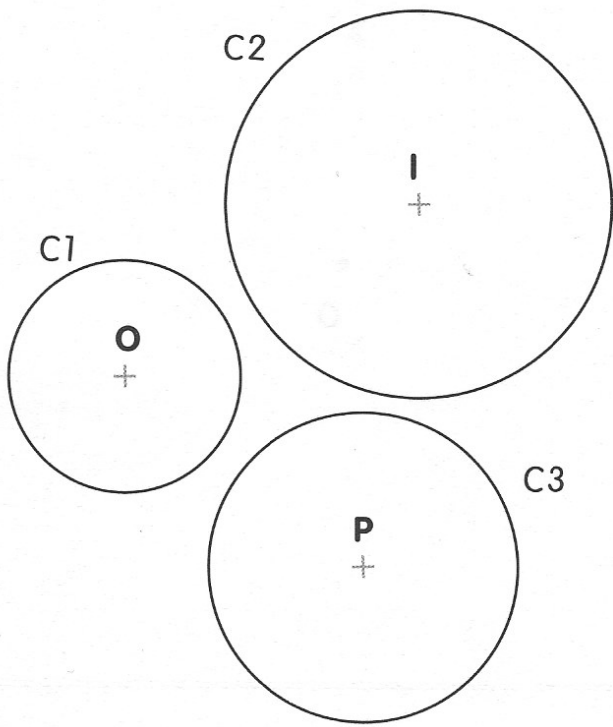



1 Observe, puis complète le tableau.



Nom du cercle	Centre	Mesure du rayon	Mesure du diamètre
C1			
C2			
C3			
C4			

2 Trace les cercles comme indiqué dans le tableau.

Nom du cercle	Centre	Mesure du rayon	Mesure du diamètre
C5	K		8 cm
C6	L		7 cm
C7	M		6 cm
C8	N		5 cm



L
+

K
+

N
+

M
+