

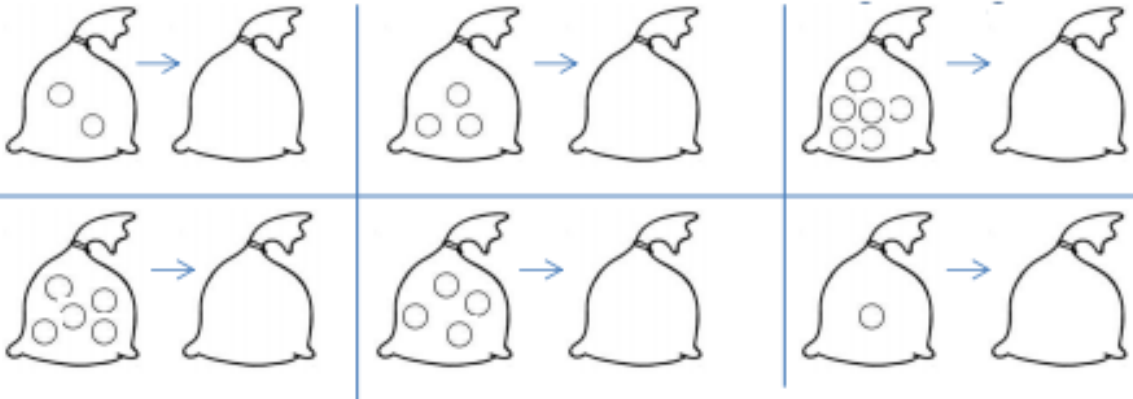
Prénom : _____

Date: _____


CALCULS : les doubles et moitiés




1 Dessine à chaque fois le double de billes :



2 Colorie la moitié des billes en bleu et l'autre en rouge :



La moitié de 10
c'est



La moitié de 8
c'est

Problème :

Dans la classe de Mathilde, il y a 8 filles et 8 garçons.
Combien d'élèves y a-t-il dans sa classe ?

dessin ou calcul :

phrase réponse :
