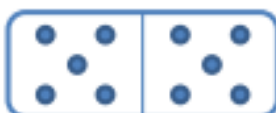


CALCULS : les doubles



1 Colorie de la même couleur le domino et son résultat :




8

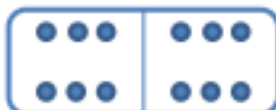


4

6



12



10

2



2 Colorie les égalités justes et barre celles qui sont fausses :

$2 + 2 = 4$

$4 + 4 = 8$

$3 + 3 = 6$

$5 + 5 = 9$

$2 + 2 = 5$

$1 + 1 = 2$

$3 + 3 = 5$

$4 + 4 = 10$

$5 + 5 = 10$

Problème :

Jérémy est un gourmand. Il a d'abord pris 4 sucettes dans la boîte à bonbons puis il est revenu prendre 4 carambars.
Combien a-t-il mangé de bonbons en tout ?

dessin ou calcul :

phrase réponse :
