


Lecture de l'heure

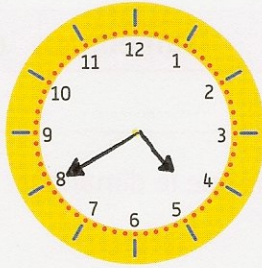
Exercice

1 Place les aiguilles pour que l'horloge corresponde à l'heure indiquée.


Il est 13 heures 25.



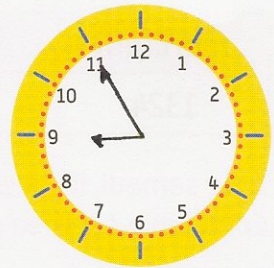
Il est 16 heures 40.



Il est 22 heures 15.



Il est 20 heures 55.



Exercice

2 Raye les étiquettes qui ne correspondent pas à l'heure indiquée par l'horloge.




Il est 3 heures 50.

~~Il est 10 heures 20.~~

~~Il est 16 heures 10.~~

Il est 15 heures 50.

Il est 4 heures moins 10.



Il est midi moins 20.


~~Il est 12 heures 20.~~

~~Il est 8 heures 58.~~

Il est 11 heures 40.

~~Il est 11 heures 8.~~

Il est 23 heures 40.



~~Il est 11 heures 25.~~

~~Il est 5 heures 55.~~

Il est 5 heures moins 5.

Il est 16 heures 55.


~~Il est 5 heures 11.~~

~~Il est 16 heures moins 5.~~

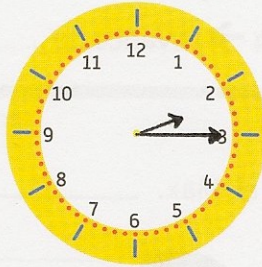
Exercice

3 Place les aiguilles pour que l'horloge corresponde à l'heure indiquée.


Il est 4 heures et demie.



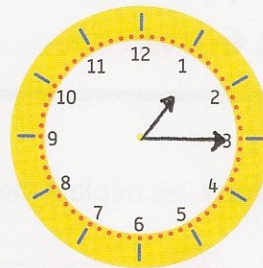
Il est 2 heures et quart.



Il est 8 heures et demie.




Il est 1 heure et quart.



Exercice

4 Raye les étiquettes qui ne correspondent pas à l'heure indiquée par l'horloge.



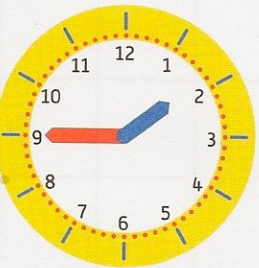
~~Il est 3 heures 32.~~

~~Il est 18 heures 3.~~

~~Il est 6 heures moins le quart.~~

Il est 18 heures 15.

Il est 6 heures et quart.



~~Il est 14 heures 45.~~

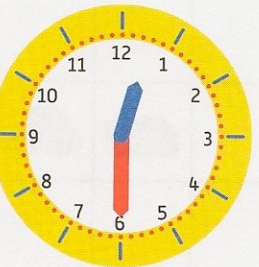
~~Il est 9 heures 10.~~

~~Il est 1 heure moins le quart.~~

Il est 2 heures moins le quart.

Il est 13 heures 45.

~~Il est 1 heure 40.~~



~~Il est 1 heure 30.~~

Il est 12 heures 30.

~~Il est 6 heures 3.~~

Il est midi et demi.

~~Il est 13 heures 30.~~

~~Il est 1 heure et demie.~~