


Activités avec les nombres :

MATHEMATIQUES

1



M	C	D	U
	9	6	7



Écris ton nombre en lettres .


neuf - cent - soixante - sept

Décompose de 2 façons .

$$900 + 60 + 7 = 967$$

$$(9 \times 100) + (6 \times 10) + 7 = 967$$

M	C	D	U
	8	7	0



Écris ton nombre en lettres .

huit - cent - soixante - dix

Décompose de 2 façons .

$$800 + 70 + 0 = 870$$

$$(8 \times 100) + (7 \times 10) + 0 = 870$$

Nombres et quantités: de 0 à 999





1 Ecris les nombres manquants:

253	254	255	256
-----	-----	-----	-----

257

258

259	260	261	262
-----	-----	-----	-----



417	418	419	420
-----	-----	-----	-----

416

415

411	412	413	414
-----	-----	-----	-----



693	694	695
-----	-----	-----

692

696

689	690	691
-----	-----	-----

697	698	699
-----	-----	-----

702	703	704
-----	-----	-----

705

710	711	712
-----	-----	-----

709

706	707	708
-----	-----	-----

2 Colorie les nombres identiques :

609

six - cent - quatre - vingt - dix - neuf

$600 + 9$

$600 + 90 + 1$

$600 + 90 + 9$

six - cent - quatre - vingt - onze

619

six - cent - neuf

$600 + 10 + 9$

699

six - cent - dix - neuf

691

3 Complète :

182	$100 + 80 + 2$
520	$500 + 20$
806	$800 + 6$
741	$700 + 40 + 1$

648	$600 + 40 + 8$
703	$700 + 3$
950	$900 + 50$
414	$400 + 10 + 4$



Nombres et quantités : de 0 à 999

1 Complète le tableau:

nombre avant	nombre	nombre après
612	613	614
458	459	460
276	277	278
163	164	165

2 Complète avec <, > ou =:

3 15

365 < 635

75 < 111

152 > 150

509 > 59


901 < 910

956 > 912

278 < 728

666 > 555

3 Relie les nombres à leur place sur la droite graduée



4 Complète la bande numérique:

