

La table d'addition :
sommées supérieures à 10

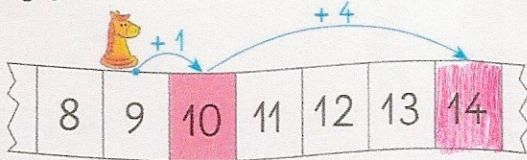
CALCUL MENTAL

Demander la suite décroissante de 10 en 10 à partir de 75.
Écrire cette suite.

□ □ □ □ □ □ □ □

1 Le pion avance sur la bande numérique. Où arrive-t-il ?
Observe et complète.

• $9 + 5 = ?$

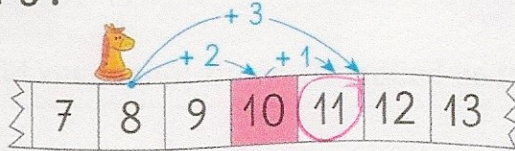


$$9 + \begin{array}{c} 5 \\ 1 + 4 \end{array} = 14$$

Je décompose 5 :
5 c'est 1 + 4.



• $8 + 3 = ?$



$$8 + \begin{array}{c} 3 \\ 2 + 1 \end{array} = 11$$

2 Utilise des décompositions pour calculer en passant par 10.



$3 = 1 + 2$



$9 + 3 = 9 + 1 + 2 = 12$

$9 + 7 = 9 + 1 + 6 = 16$

$9 + 6 = 9 + 1 + 5 = 15$

$8 + 4 = 8 + 2 + 2 = 12$

$8 + 6 = 8 + 2 + 4 = 14$

$8 + 7 = 8 + 2 + 5 = 15$

$4 = 2 + 2$




3 Complète la table d'addition.



10	9 + 1	8 + 2	7 + 3	6 + 4	5 + 5
11	9 + 2	8 + 3	7 + 4	6 + 5	
12	9 + 3	8 + 4	7 + 5	6 + 6	
13	9 + 4	8 + 5	7 + 6		
14	9 + 5	8 + 6	7 + 7		
15	9 + 6	8 + 7			
16	9 + 7	8 + 8			
17	9 + 8				
18	9 + 9				

$11 = 8 + ?$



4 Colorie le chemin du 12.



3 + 9 9 + 9 9 + 8

4 + 8 5 + 7 6 + 6

8 + 8 9 + 5 7 + 5

3 + 6 8 + 4 7 + 7

9 + 3

5 + 5

10 + 2

CALCUL MENTAL

Dictée de nombres :
nombres de 60 à 100

--	--	--	--	--	--	--	--

1 Complète les tableaux d'addition.

+	1	2	3
1	2		4
2		4	
3	4		6



+	3	4	5
3	6		8
4	7	8	
5		9	10



Ne complète pas les cases en couleur !

+	1	2	3	4	5
6		8		10	
7	8		10		12
8			11	12	13
9		11	12		



+	5	6	7	8	9
5		11			14
6		12	13		
7	12	13	14	15	
8	13	14		16	
9		15	16	17	18

2 Maisons « 9 » : barre les 3 intrus.

13-4	18-9	12-3
16-7	18-8	12-4
15-6	14-5	11-3

3 Colorie les briques « 13 ».

13				
6+7	6+6			
4+9	5+6	9+3		
8+4	5+8	8+5	9+2	
7+5	8+8	7+4	7+6	9+4

4 Complète avec = ou ≠.

9+4 \neq 8+6	9+3 \neq 6+7
7+7 \neq 6+9	8+6 = 9+5
6+6 = 7+5	6+5 \neq 5+5

5 Complète les égalités.

6+5 = 5+6	9+7 = 8+8
7+4 = 6+5	10+8 = 9+9
3+8 = 2+9	8+4 = 7+5