


MARDI



durées .....  
 .....  
 .....

Durée totale de : .....

1

MERCREDI

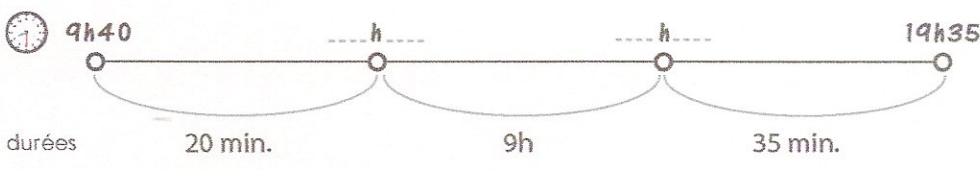


durées .....  
 .....  
 .....

..... min. + ..... min. = .....

Durée totale de : .....

2

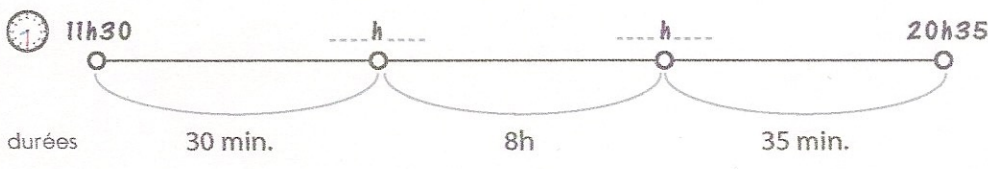


durées 20 min. 9h 35 min.

..... min. + ..... min. = .....

Durée totale de : .....

3



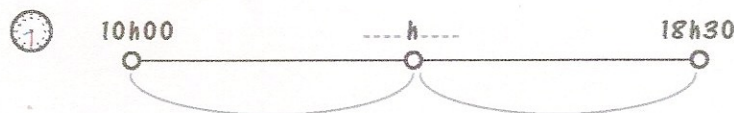
durées 30 min. 8h 35 min.

..... min. + ..... min. = .....

Durée totale de : .....

4

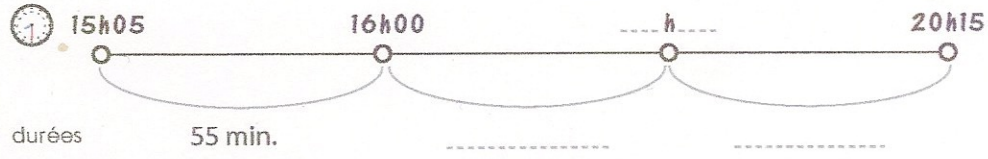
JEUDI



durées .....  
 .....

Durée totale de : .....

5




durées 55 min. ....

Durée totale de : .....

6

VENDREDI

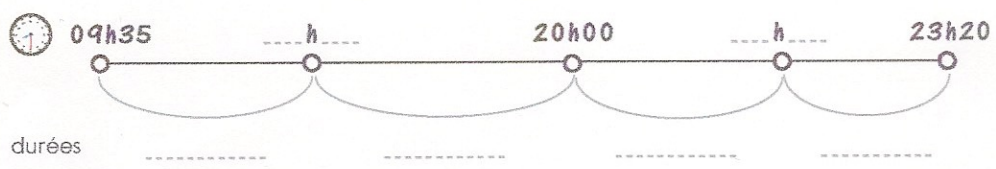


durées ..... 11h .....

..... min. + ..... min. = .....

Durée totale de : .....

7



durées .....  
 .....  
 .....

..... min. + ..... min. = .....

Durée totale de : .....

8