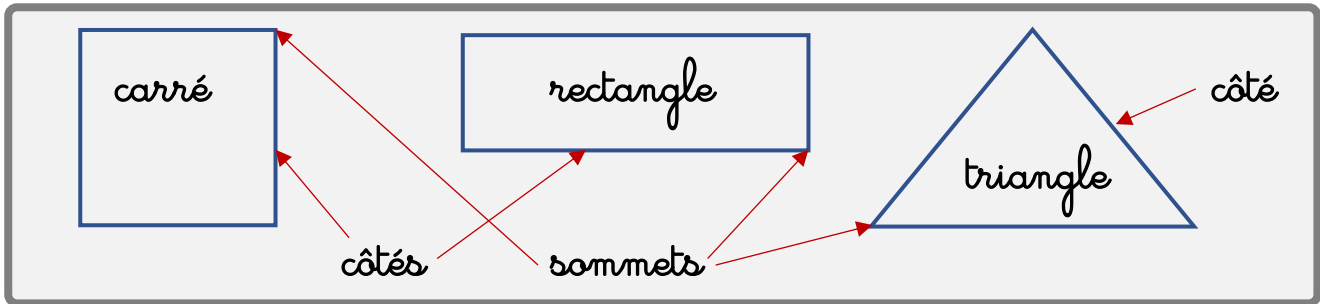


1. Il existe de nombreuses figures géométriques. En voici 3.



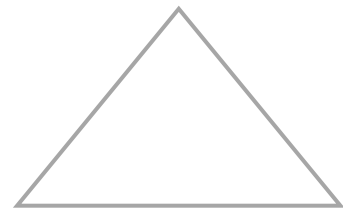
Avec ta règle  trace en bleu les côtés de chacune des figures.



Le carré a ___ côtés.




Le rectangle a ___ côtés.



Le triangle a ___ côtés.




Fais un point rouge sur chaque sommets des figures.



Le carré a ___ sommets.



Le rectangle a ___ sommets.



Le triangle a ___ sommets.

2. Reconnaître les carrés, triangles, rectangles.



Colorie en jaune les carrés, en bleu les rectangles, en rouge les triangles.

