



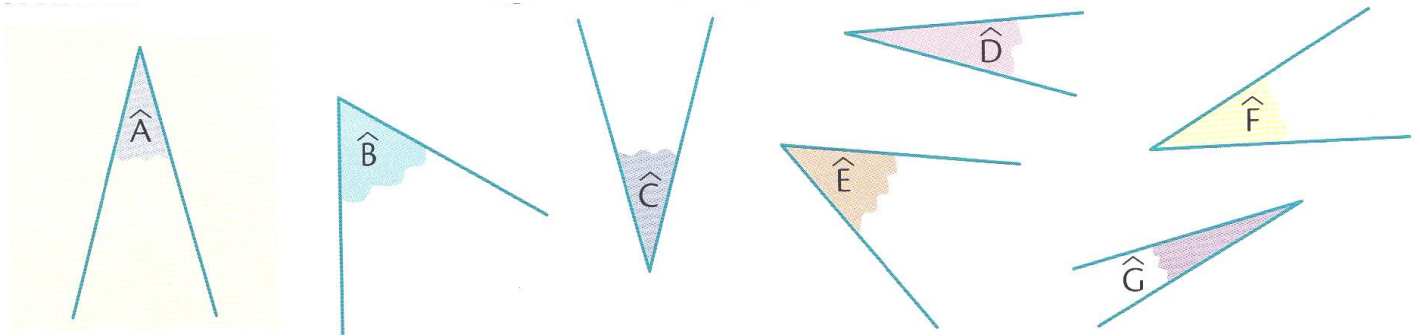
Grandeurs et mesures : Les angles

Reproduire des angles

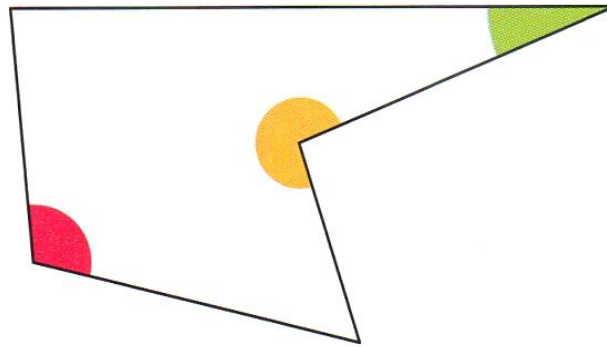
CM2

Fiche d'exercices n°8

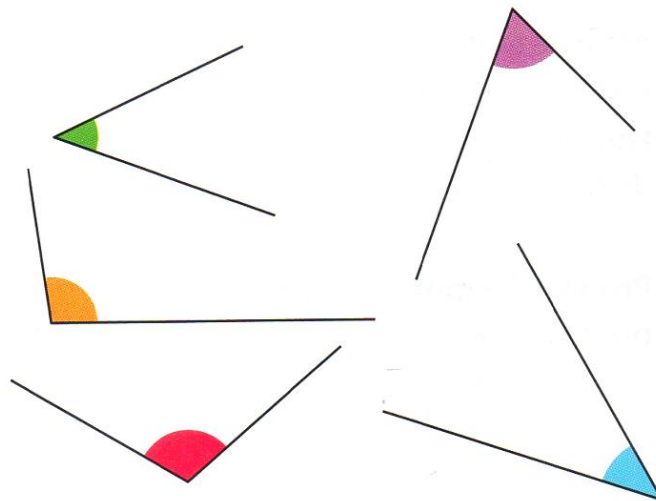
→ **Exercice 1** : Reproduis exactement l'angle \hat{E} et \hat{B} .



→ **Exercice 2** : Reproduis l'angle rose, l'angle vert et l'angle jaune de ce polygone.



→ **Exercice 3** : Reproduis les cinq angles ci-dessous.



→ **Exercice 4** : Trace un angle :

- deux fois plus grand que cet angle vert,
- trois fois plus grand que cet angle vert.

